

Асианова Мариян 75

Задания школьного этапа
Верхней олимпийской олимпиады по географии для учащихся 7 класса 2021-2022г.

Не разрешается пользоваться географическими атласами и другими источниками информации.

Желаем успеха!

1. Тестовый тур
(каждое правильное задание - 1 балл. Максимум - 20 баллов)
- 1) остров Тасмания; 2) Уральские горы; 3) остров Ява; 4) остров Гренландия.
 - Самое большое скопление воды на земной поверхности называется: 1) озеро; 2) море; 3) Мировой океан; 4) пруд.
 - Выберите часть гидросферы, для полной смены воды в которой требуется больше всего времени: 1) ледники; 2) озера; 3) болота; 4) реки

4. Укажите правильную пару: путешественник - страна, в которой он родился:
- 1) Христофор Колумб - Португалия; 2) Витус Беринг - Россия;
 - 3) Виллем Баренц - Дания; 4) М.Поло - Италия.

5. Самая большая планета Солнечной системы
- 1) Юпитер; 2) Сатурн; 3) Уран; 4) Земля.
6. Какой древнерусский ученый является автором термина «география»?
- 1) Аристотель; 2) Эратосфен; 3) Геродот; 4) Страбон.

7. Легкое парусное судно в Индийском океане терпит бедствие. Его координаты - 20° ю. ш. и 40° в. д. С берега какого материка может быстрее подоспеть помощь?
- 1) Евразия; 2) Австралия; 3) Африка; 4) Южная Америка.

8. Абсолютная высота вулкана Килиманджаро - 5895 м. Вычислите его относительную высоту, если он образовался на равнине, поднимающейся на 500 м над уровнем моря.
- 1) 5395 м; 2) 5805 м; 3) 6395 м; 4) 1179 м.

9. Какой из представленных масштабов самый крупный?
- 1) 1:25000; 2) 1:50000; 3) 1:100000; 4) 1:1000000

10. В каком направлении Земля вращается вокруг своей оси
- 1) с запада на восток; 2) в зависимости от времени суток;
 - 3) с востока на запад; 4) в зависимости от сезона года

11. Сколько градусов составляет зимы, если человек прошел строго на запад 10 км?
- 1) 45°; 2) 90°; 3) 235°; 4) 270°

12. Соотнесите названия стран и их характерные для них особенности территории или географическое положение.
- | | |
|------------------------------|--------------|
| А) «страна-материк»; | 1. Австралия |
| Б) «карликовое государство»; | 2. Монголия |
| В) островное государство; | 3. Монголия |
| Г) приморское государство; | 4. Филиппины |
| Д) не имеет выхода к морю. | 5. Франция |

13. Какое утверждение о земной коре верно?
- 1) Земная кора под материками и океанами имеет одинаковую структуру.
 - 2) Под океанами мощнее земной коры больше, чем под материками.
 - 3) Границы литосферных плит совпадают с контурами материков.
 - 4) Литосферные плиты медленно перемещаются по поверхности мантии.




14. Выберите правильные утверждения


- 1) На южном полюсе холоднее, чем на северном
 - 2) Беринго в проливе тхрыл Витус Беринг
 - 3) Карта имеет более крупный масштаб, чем топографический план
 - 4) Азимут на юг составляет 180 градусов
 - 5) Самый большой остров в мире - это Сахалин
 - 6) Самая высокая вершина мира называется Джомолунгма
 - 7) На юге Евразия омывается Индийским океаном
15. Вычеркните одно лишнее понятие:
- 1) Намиб; 2) Сахара; 3) Аппалачи; 4) Патагония; 5) Гоби; 6) Каракумы.
16. Какой пояс формируется на экваторе?
- 1) пояс высокого атмосферного давления; 2) пояс низкого атмосферного давления

2. Теоретический тур. (Максимум - 32 балла)

Задание 1 (6 баллов) Прочитайте описание. О какой необычной вершине идет речь? Эту вершину называют по-разному. Правительством страны, лежащей к югу от горы, в 1965 г. объявлено, что имеется такое название «Сагарматха», что означает «небесная вершина». На языке народа, проживающего к северу от этой вершины, ее название переводится как «мать страны гор». В 1856 г. вершине дали европейское название в честь нападника топорической службы.

Ответ: Горная вершина (местное название) Джомолунгма
 Горная вершина (европейское название) Эверест
 Заполните таблицу, соотнесите номер фотографии и название вершины.
 Горные вершины: Эльбрус, Килиманджаро, Гекла, Фудзияма, Сагарматха.
 Укажите, что в списке указана одна линия вершина.

A	Эверест		
B	Килиманджаро		
3	Сагарматха		



Критерии оценивания. За правильный ответ - 1 балл. Всего 6 баллов.

Задание 2 (3 балла). Где находится самая высокая вершина мира? Объясните причину их полно водности.

В горах Анды. Самый высокий пик - Эльбрус. Причина их водности - высокая влажность воздуха.

Задание 3 (9 баллов). Какой пролив одноименно соединяет два океана, два моря, называет это проливом и двумя названными объектами, но море он соединяет или раз соединяет?

Дарданеллы, Босфор, Черное и Средиземное море, соединяет два океана, два моря, называет это проливом и двумя названными объектами, но море он соединяет или раз соединяет.

Задание 4 (9 баллов). Эти горные ветры чаще всего наблюдаются зимой, хотя могут возникнуть и в другое время года, оба дуют с гор, только один из них - теплый и сухой, всегда сильный и холодный, хотя высота гор, откуда он обрушивается на местность, не превышает 400-650 метров. Что это за ветры, как они возникают?

1	сильный ветер	6	ветер с юга
2	сильный ветер	7	ветер с юга
3	сильный ветер	8	ветер с юга
4	сильный ветер	9	ветер с юга
5	сильный ветер	10	ветер с юга

Максимум 52 балла