

Цай Ю.

**Задания школьного этапа
Всероссийской олимпиады по географии для учащихся 11 класса 2021-2022г.**

Не разрешается пользоваться географическими атласами и другими источниками информации.

Желаем успеха!

1. Тестовый тур

(каждое правильное задание - 1 балл. Максимум – 20 баллов)

1. Какой субъект исчез с карты Российской Федерации после 2008 года:

- 1) Тюменская область 2) Свердловская область 3) Читинская область 4) Иркутская область

2. Какой географический объект не носит имя Витуса Беринга:

- 1) остров 2) залив 3) море 4) пролив

3. Укажите страну, в которой наиболее остро стоит проблема курдов:

- 1) Турция; 3) Иран; 5) Индия;
2) Азербайджан; 4) Израиль; 6) Туркмения.

4. Укажите ошибку в перечне главных грузопотоков газа:

- 1) Россия → Европа; 3) ЮАР → Япония;
2) Алжир → Западная Европа; 4) Канада → США.

5. В какой стране младенческая смертность максимальна:

- 1) Индия; 2) Китай; 3) Иран; 4) Афганистан; 5) Багладеш

6. Выделите страну с самой высокой долей городского населения среди перечисленных:

- 1) Великобритания; 4) Финляндия;
2) Франция; 5) Испания;
3) ФРГ; 6) Италия.

7. Укажите ошибку в составе «Большой восьмерки»:

- 1) США; 4) Великобритания; 7) Италия;
2) Япония; 5) Германия; 8) Канада.
3) Испания; 6) Франция;

8. Какая страна в последние десятилетия притягивает большое количество трудовых мигрантов:

- 1) Турция; 4) Кувейт;
2) Ирак; 5) Португалия;
3) Парагвай; 6) Болгария.

9. Какой из полуостровов России предположительно хранит большие запасы газа?

- 1) Ямал; 2) Таймыр; 3) Чукотский; 4) Кольский

10. В какой стране нет железных дорог, в столице нет дымовых труб, на каждого жителя страны приходится до 4,5 овец и до 5 т выловленной рыбы. Столица какой страны является самой северной в мире:

- 1) Швеция; 2) Исландия; 3) Норвегия; 4) Ирландия.

11. Выберите правильно вариант ответа, в котором представлены две страны, одновременно входящие в число семи самых крупных по территории и десяти самых крупных по численности населения:

- 1) Китай и Индонезия; 2) Австралия и Бангладеш;

3) Бразилия и Нигерия;

4) Китай и Бразилия.

12. Найдите единственную страну, в которой минимальны предпосылки для межрелигиозных или межэтнических конфликтов:

1) Великобритания;

3) Япония;

5) Канада;

2) Индия;

4) Турция;

13. В. Даль определил это так: «Равноденник или равноденственный, под которым дни и ночи всегда равны, а широта места – нуль». Что это

1) нулевой меридиан

2) северный полярный круг

3) южный тропик

4) экватор

5) северный тропик

14. Какая страна производит дешевую электроэнергию, экспортирует нефть и газ:

1) США;

3) Норвегия;

5) Нигерия;

2) Германия;

4) Украина;

6) Бразилия.

15. Выберите группу стран, имеющих крупнейшие в мире запасы древесины:

1) Россия, Индия, Саудовская Аравия;

2) Бразилия, США, Канада, Россия;

3) США, Китай, Индия, Канада;

4) Канада, США, Финляндия, Китай;

5) Россия, Ливия, Франция, Германия;

6) Швеция, Финляндия, Канада, Австралия.

16. Выберите группу стран, в каждой из которых развита добыча и угля, и железной руды:

1) Австралия, Франция, Белоруссия;

4) Германия, Польша, Швеция;

2) США, Китай, Россия;

5) Индонезия, Венесуэла, Бразилия.

3) Либерия, Китай, ЮАР;

Пробный период Scanitto Pro окончен

17. «Медным поясом» называют:

1) Замбию и южную часть Заира; Please visit www.scanitto.com 4) побережье Гвинейского залива;

2) Средиземноморское побережье Африки;

5) государства Юго-Восточной Азии.

3) горные районы Чили, Перу, Эквадора;

18. Выберите пару городов – центров автомобилестроения:

1) Манчестер, Глазго; 2) Детройт, Турин; 3) Осло, Хельсинки;

4) Бомбей, Джакарта; 5) София, Будапешт; 6) Буэнос-Айрес, Асунсьон.

19. До Первой Мировой войны эта европейская страна являлась монархией и имела выход к Мировому океану, однако в настоящее время является федеративной республикой и имеет внутриконтинентальное географическое положение, после окончания Второй Мировой войны страна проводит политику постоянного нейтралитета:

1) ФРГ;

2) Бельгия

3) Швейцария;

4) Австрия.

20. Как называется самая маленькая страна в пределах самой длинной в мире горной цепи? На территории страны находится более 50 вулканов, кроме того, она одна из крупнейших в мире экспортеров бананов.

1) Эквадор;

2) Непал;

3) Венесуэла;

4) Мексика

2. Теоретический тур. (Максимум – 40 баллов)

Задание 1. (10 баллов)

Установите соответствие между предприятиями и городами, а также укажите, какую продукцию они производят. Города: Череповец, Омск, Санкт-Петербург, Балабаново, Ростов-на-Дону, Тольятти, Мытищи, Москва, Березники, Красноярск. Продукция: лекарственные препараты, замороженные продукты, производство спичек, вагоны для метрополитена, легковые автомобили, стальной прокат, сельхозтехника, калийные удобрения, морские суда, холодильное оборудование. Предприятия: Город Продукция «Метровагонмаш» «Северсталь» «Уралкалий» «АвтоВаз» «Красфарма» «Северная верфь» «СТИНОЛ» «Инмарко» «Ростсельмаш» «Плитспичпром»

№	города	предприятия	производимая продукция
1	Тольятти	«АвтоВаз»	легковые автомобили
2	Санкт-Петербург	«Северная верфь»	морские суда
...	Красноярск	«Красфарма»	

Задание 2. (6 баллов) Эта страна граничит по суше с несколькими другими странами.

О первом. Здесь родился и работал создатель гелиоцентрической системы мира.

О втором. Здесь самая высокая в мире доля мощностей АЭС в общих установленных мощностях электростанций.

О третьем. Это мировой лидер по добыче природного газа.

О четвертом. Имеет выход к северному устью крупнейшей из рек, берущих начало в стране, лидирующей в ЕС по численности населения

(Соседи перечислены в географически беспорядочной последовательности).

Вам необходимо ответить на следующие вопросы:

А. Определите эту страну.

Б. Назовите соседей, и о ком или о чём идет речь.

В. Если у искомой страны есть еще другие соседи, назовите их.

Задание 3 (8 баллов)

Please visit www.scanitto.com

На Земле есть замечательный материк. Следуя на корабле вдоль его берегов с запада на восток, путешественник пересечет три океана; север и юг на этом материке мгновенно «меняются» местами. И, наконец, в этих местах человек не всегда в состоянии отличить море от суши.

Какой это материк? Какие три океана можно пересечь? Почему север и юг мгновенно меняются местами? Почему в этих местах сложно отличить море от суши?

Антарктида; Тихий, Индийский, Атлантический (Южный)

Задание 4 (10 баллов)

Был полдень. Лучи солнца падали совершенно отвесно, так что тень от моей фигуры ложилась прямо подо мной на ярко сияющий крупно зернистый снег... Странно было сознавать, что в каких-нибудь 27–28 км к северу лежит экватор, а неподалеку сияет величайший шрам на лице Земли... О какой местности (вершине мира) идет речь? Подробно опишите логику своего ответа.

Задание 5. (6 баллов) Прочитайте описание. О какой необычной вершине идет речь?

Эту вершину называют по-разному. Правительство страны, лежащей к югу от горы, в 1965 г. объявило, что имеется такое название «Сагарматха», что означает «небесная вершина». На языке народа, проживающего к северу от этой вершины, ее название переводится как «мать страны гор». В 1856 г. вершине дали европейское название в честь начальника топографической службы.





Ответ: Горная вершина (местное название) Сагарматха

Горная вершина (европейское название) _____

Заполните таблицу, соотнесите номер фотографии и название вершины.

Горные вершины: Эльбрус, Килиманджаро, Гекла, Фудзияма, Сагарматха.

Учтите, что в списке указана одна лишняя вершина.

А	Эльбрус	
Б	Килиманджаро	
3	Сагамаатха	
4	Фудзияма	

Пробный период

Please visit

Критерии оценивания. За правильный ответ - 1 баллов. Всего 6 баллов.

Максимум – 60 баллов