

**Задания школьного этапа  
Всероссийской олимпиады по географии для учащихся 10 класса  
2021-2022г.**

**Не разрешается пользоваться географическими атласами и другими источниками информации.**

**Желаем успеха!**

**1. Тестовый тур  
(каждое правильное задание - 1 балл. Максимум – 20 баллов)**

1. Укажите правильную пару: путешественник - страна, в которой он родился:
  - а) Христофор Колумб - Португалия;    б) Витус Беринг - Россия;
  - в) Виллем Баренц - Дания;            г)  М.Поло - Италия.
2. Группа японских туристов хочет своими глазами увидеть природу сибирской тайги и посмотреть окрестности уникального озера Байкал. Какой из перечисленных заповедников им нужно посетить?
  - А) Тунгусский    Б) Баргузинский    В) Буреинский    Г) Дагестанский
3. Это древний устойчивый участок земной коры
  - А) щит     Б) платформа    В) геосинклиналь    Г) складка
4. Наибольшую абсолютную высоту имеет крайняя ... точка России:
  - А) северная     Б) южная    В) Западная    Г) восточная
5. Определите вариант, в котором указаны высочайшие вершины Кавказа, Алтая, Урала.
  - А) Эльбрус, Белуха, Кроноцкая Сопка;    Б) Эльбрус, Народная, Денежкин Камень;
  - В) Казбек, Белуха, Народная;            Г)  Эльбрус, Белуха, Народная.
6. Линия перемены дат проходит по меридиану
  - а) 0°                      б) 90°                      в) 145°                      г)  180°
7. Какая русская экспедиция первой совершила кругосветное путешествие?
  - А) Ф. Литке, В. Головин                      Б)  И. Крузенштерн, Ю. Лисянский
  - В) В. Беринг, А. Чириков                    Г) Ф. Беллинсгаузен, М. Лазарев
8. Какова будет температура воздуха на горе Монблан (4800 м), если у ее подножия температура воздуха составила + 20°C:
  - А) +48,8°C                      Б) -48,8°C                      В) +24,8°C                      Г)  -8,8°C
9. На каком острове заканчивается день нашей планеты?
  - А) о. Ратманова    Б) о. Крузенштерна     В) о. Рудольфа    Г) о. Кадьяк
10. По общим особенностям своего рельефа более схожи:
  - А. Африка и Южная Америка; Б. Южная Америка и Северная Америка;
  - В. Северная Америка и Австралия; Г. Австралия и Евразия
11. Укажите страну-архипелаг:
  - 1) Канада;     2) Япония;    3) Австралия;    4) Таиланд.
12. Какая страна имеет только одного сухопутного соседа:
  - 1) Япония;     2) ФРГ;    3) Монголия;    4) Португалия.
13. Какая страна относится к странам с переходной экономикой:
  - 1) Польша.    2) Италия.    3) Швеция.    4) Греция.
14. В предложенном списке выберите вариант, где перечислены только столицы азиатских государств:
  - 1) Доха, Сеул, Ханой, Пекин, Триполи.
  - 2) Катманду, Тхимпху, Нейпидо, Абу-Даби, Бангкок
  - 3) Токио, Исламабад, Тирана, Багдад, Нью-Дели
  - 4) Канберра, Джакарта, Пхеньян, Эр-Рияд, Тегеран
15. Какой континент имеет наибольшее количество абсолютных монархий:
  - 1) Европа.    2) Африка     3) Азия.    4) Ю. Америка.

16. В какой стране два государственных языка?

- 1) Австралия. ②) Бразилия. 3) Канада. 4) Япония.

17. Какая страна не является членом ЕС и НАТО:

- 1) Франция. 2) Великобритания. ③) Эстония. 4) Швейцария

18. Найдите единственную ошибку среди народов, проживающих вдоль сухопутной границы России:

- 1) буряты; 2) карелы; 3) тувинцы; ④) аварцы; 5) алтайцы; 6) ханты.

19. Выберите самый древний город на территории Российской Федерации:

- 1) Архангельск; 2) Владимир; ③) Дербент; 4) Москва;  
5) Великий Новгород; 6) Суздаль.

20. Какие воздушные массы зимой приносят на территорию России морозную погоду при ясном небе, весной и осенью – заморозки, а летом, достигая южных районов, часто вызывают засуху:

- 1) умеренные воздушные массы, 2) субарктические воздушные массы,  
③) арктические воздушные массы, 4) субтропические воздушные массы

## 2. Теоретический тур. (Максимум – 33 балла)

**Задание 1. (10 баллов).** Установите соответствие между предприятиями и городами, а также укажите, какую продукцию они производят. Города: Череповец, Омск, Санкт-Петербург, Балабаново, Ростов-на-Дону, Тольятти, Мытищи, Москва, Березники, Красноярск  
Продукция: лекарственные препараты, замороженные продукты, производство спичек, вагоны для метрополитена, легковые автомобили, стальной прокат, сельхозтехника, калийные удобрения, морские суда, холодильное оборудование. Предприятия: Город Продукция «Метровагонмаш» «Северсталь» «Уралкалий» «АвтоВаз» «Красфарма» «Северная верфь» «СТИНОЛ» «Инмарко» «Ростсельмаш» «Плитспичпром»

№	города	предприятия	производимая продукция
1			
2			

**Задание 2. (10 баллов)** О соседях субъекта федерации X есть некоторая информация:

О первом и втором	Низшая абсолютная отметка естественной поверхности суши – ок. -27 м	
О третьем и четвертом	Высшая абсолютная отметка естественной поверхности суши находится на уровне 5642 м.	
О пятом	Часть местного населения некоторое время именовала свой главный город Джохаркала.	
О шестом	Столица – самый маленький из городов – центров субъектов РФ.	
О седьмом	Родной язык большей части населения относится к иранской группе.	
О восьмом	Здесь самая молодая в России АЭС	
О девятом	Печорин разрушил налаженную жизнь здешних контрабандистов: Мне стало грустно. И зачем судьбе кинуть меня в мирный круг честных контрабандистов? Как камень, брошенный в гладкий источник, я встревожил их спокойствие и, как камень, едва сам не пошел ко дну!	

Определите X и соседей.

Задание 3. (3балла) О каком субъекте РФ идёт речь? *Мурманск*

Столица субъекта расположена на крупной реке бассейна Северного – Ледовитого океана и является одним из крупнейших городов Северного Экономического района.




На территории субъекта развита лесная, рыбная промышленности; ведётся добыча бокситов, алмазов, стройматериалов. Здесь находится крупнейший в России порт для атомных подводных лодок.

Задание 4 (4 балла). *Австрия, федеративное гос-во.*

Назовите страну, определив её по перечню столиц соседних государств, имеющих с ней общую границу (Берлин, Прага, Братислава, Будапешт, Любляна, Рим, Берн, Вадуц), и назовите форму правления, форму государственного устройства этой страны и кому принадлежит исполнительная власть в этой стране.

Задание 5 (6 баллов) Используя ваши географические знания, определите, какой регион России изображен на почтовых марках Федерального Агентства связи. Объясните свой выбор.

**За каждый субъект – 1 балл. За объяснение – 1 балл. Максимум за задание – 6 баллов.**

1	 <p>РОССИЯ ROSSIJA • 2003 3.00</p>	<p><i>Субъект:</i></p> <p><i>Объяснение:</i></p>
2	 <p>РОССИЯ ROSSIJA • 2002 3.00</p> <p>Scanitto Pro окончен Please visit <a href="http://www.scanitto.com">www.scanitto.com</a></p>	<p><i>Субъект:</i></p> <p><i>Объяснение:</i></p>
3	 <p>РОССИЯ ROSSIJA • 2003 3.00</p>	<p><i>Субъект:</i></p> <p><i>Объяснение:</i></p>

Максимум – 53 балла