

Лазаревский Д 10 А

Задания школьного этапа
Всероссийской олимпиады по географии для учащихся 10 класса
2021-2022г.

Не разрешается пользоваться географическими атласами и другими источниками информации.

Желаем успеха!

1. Тестовый тур

(каждое правильное задание - 1 балл. Максимум - 20 баллов)

1. Укажите правильную пару: путешественник - страна, в которой он родился:
а) Христофор Колумб - Португалия; б) Витус Беринг - Россия;
в) Виллем Баренц - Дания; г) М.Поло - Италия.
2. Группа японских туристов хочет своими глазами увидеть природу сибирской тайги и посмотреть окрестности уникального озера Байкал. Какой из перечисленных заповедников им нужно посетить?
А) Тунгусский Б) Баргузинский В) Буреинский Г) Дагестанский
3. Это древний устойчивый участок земной коры
А) щит Б) платформа В) геосинклиналь Г) складка
4. Наибольшую абсолютную высоту имеет крайняя ... точка России:
А) северная Б) южная В) Западная Г) восточная
5. Определите вариант, в котором указаны высочайшие вершины Кавказа, Алтая, Урала.
А) Эльбрус, Белуха, Кроноцкая Сопка; Б) Эльбрус, Народная, Денежкин Камень;
В) Казбек, Белуха, Народная; Г) Эльбрус, Белуха, Народная.
6. Линия перемены дат проходит по меридиану
а) 0° б) 90° в) 145° г) 180°
7. Какая русская экспедиция первой совершила кругосветное путешествие?
А) Ф. Литке, В. Головнин Б) И. Крузенштерн, Ю. Лисянский
В) В. Беринг, А. Чириков Г) Ф. Беллинсгаузен, М. Лазарев
8. Какова будет температура воздуха на горе Монблан (4800 м), если у ее подножия температура воздуха составила + 20°C:
А) +48,8°C Б) -48,8°C В) +24,8°C Г) -8,8°C
9. На каком острове заканчивается день нашей планеты?
А) о. Ратманова Б) о. Крузенштерна В) о. Рудольфа Г) о. Кадьяк
10. По общим особенностям своего рельефа более схожи:
А. Африка и Южная Америка; Б. Южная Америка и Северная Америка;
В. Северная Америка и Австралия; Г. Австралия и Евразия
11. Укажите страну-архипелаг:
1) Канада; 2) Япония; 3) Австралия; 4) Таиланд.
12. Какая страна имеет только одного сухопутного соседа:
1) Япония; 2) ФРГ; 3) Монголия; 4) Португалия.
13. Какая страна относится к странам с переходной экономикой:
1) Польша. 2) Италия. 3) Швеция. 4) Греция.
14. В предложенном списке выберите вариант, где перечислены только столицы азиатских государств:
1) Доха, Сеул, Ханой, Пекин, Триполи
2) Катманду, Тхимпху, Нейпидо, Абу-Даби, Бангкок
3) Токио, Исламабад, Тирана, Багдад, Нью-Дели
4) Канберра, Джакарта, Пхеньян, Эр-Рияд, Тегеран
15. Какой континент имеет наибольшее количество абсолютных монархий:
1) Европа. 2) Африка 3) Азия. 4) Ю. Америка.

16. В какой стране два государственных языка?

- 1) Австралия. 2) Бразилия. 3) Канада. 4) Япония.

17. Какая страна не является членом ЕС и НАТО:

- 1) Франция. 2) Великобритания. 3) Эстония. 4) Швейцария

18. Найдите единственную ошибку среди народов, проживающих вдоль сухопутной границы России:

- 1) буряты; 2) карелы; 3) тувинцы; 4) аварцы; 5) алтайцы; 6) ханты.

19. Выберите самый древний город на территории Российской Федерации:

- 1) Архангельск; 2) Владимир; 3) Дербент; 4) Москва;
5) Великий Новгород; 6) Суздаль.

20. Какие воздушные массы зимой приносят на территорию России морозную погоду при ясном небе, весной и осенью – заморозки, а летом, достигая южных районов, часто вызывают засуху:

- 1) умеренные воздушные массы, 2) субарктические воздушные массы,
3) арктические воздушные массы, 4) субтропические воздушные массы

2. Теоретический тур. (Максимум – 33 балла)

Задание 1. (10 баллов). Установите соответствие между предприятиями и городами, а также укажите, какую продукцию они производят. Города: Череповец, Омск, Санкт-Петербург, Балабаново, Ростов-на-Дону, Тольятти, Мытищи, Москва, Березники, Красноярск
Продукция: лекарственные препараты, замороженные продукты, производство спичек, вагоны для метрополитена, легковые автомобили, стальной прокат, сельхозтехника, калийные удобрения, морские суда, холодильное оборудование. Предприятия: Город Продукция «Метровагонмаш» «Северсталь» «Уралкалий» «АвтоВаз» «Красфарма» «Северная верфь» «Стинол» «Инмарко» «Ростсельмаш» «Плитспичпром»

№	города	предприятия	производимая продукция
1			
2			

Задание 2. (10 баллов) О соседях субъекта федерации X есть некоторая информация:

О первом и втором	Низшая абсолютная отметка естественной поверхности суши – ок. -27 м	
О третьем и четвертом	Высшая абсолютная отметка естественной поверхности суши находится на уровне 5642 м.	
О пятом	Часть местного населения некоторое время именовала свой главный город Джохаркала.	
О шестом	Столица – самый маленький из городов – центров субъектов РФ.	
О седьмом	Родной язык большей части населения относится к иранской группе.	
О восьмом	Здесь самая молодая в России АЭС	
О девятом	Печорин разрушил налаженную жизнь здесьних контрабандистов: Мне стало грустно. И зачем судьбе кинуть меня в мирный круг честных контрабандистов? Как камень, брошенный в гладкий источник, я встревожил их спокойствие и, как камень, едва сам не пошел ко дну!	

Определите X и соседей.

Задание 3. (3 балла) О каком субъекте РФ идёт речь?

Столица субъекта расположена на крупной реке бассейна Северного – Ледовитого океана и является одним из крупнейших городов Северного Экономического района.

На территории субъекта развита лесная, рыбная промышленности; ведётся добыча бокситов, алмазов, стройматериалов. Здесь находится крупнейший в России порт для атомных подводных лодок.




Задание 4 (4 балла).

Мурманск

Назовите страну, определив её по перечню столиц соседних государств, имеющих с ней общую границу (Берлин, Прага, Братислава, Будапешт, Любляна, Рим, Берн, Вадуц), и назовите форму правления, форму государственного устройства этой страны и кому принадлежит исполнительная власть в этой стране. *Австрия, федеративное государство.*

Задание 5 (6 баллов) Используя ваши географические знания, определите, какой регион России изображен на почтовых марках Федерального Агентства связи. Объясните свой выбор.

За каждый субъект – 1 балл. За объяснение – 1 балл. Максимум за задание – 6 баллов.

1	 <p>РОССИЯ ROSSIJA • 2003 3.00</p>	<p>Субъект:</p> <p>Объяснение:</p>
2	 <p>РОССИЯ ROSSIJA • 2002 3.00</p>	<p>Субъект:</p> <p>Объяснение:</p>
3	 <p>РОССИЯ ROSSIJA • 2003 3.00</p>	<p>Субъект:</p> <p>Объяснение:</p>

Максимум – 53 балла