


**ШКОЛЬНЫЙ ЭТАП
ВСЕРОССИЙСКОЙ ОЛИМПИАДЫ ШКОЛЬНИКОВ ПО ТЕХНОЛОГИИ.**
Направление «Культура дома, дизайн и технологии» 2021 г. 7–8 классы

1. (1 балл) Выберите из списка объект, имеющий наноразмер.
Выберите один правильный ответ.

капля воды	гольциана оболочка	клетка крови	маковое зерно
1	2	3	4

2. (1 балл) Из предложенных чертёж выберите вид сверху детали, изображённой на рисунке.



Please visit www.scanitto.com


Пробный период Scanitto Pro окончен

Выберите один правильный ответ.

1	2	3	4





3. (1 балл) На каком этапе работы над творческим проектом производится основная работа по изготовлению изделия? Выберите один правильный ответ.
ответ.

технологический	1
конструкторский	2
заключительный	3
поисковый	4



Выберите все правильные ответы.
источники энергии.

5. (2 балла) Из предложенных изображений выберите возобновляемые

Имя	Изображения	Названия
А		зубчатая ременная передача
Б		зубчато-ременная передача
В		перекрестная ременная передача
Г		прямая ременная передача

Пробный период Scanitto Pro окончен

Please visit www.scanitto.com

4. (4 балла) Установите соответствие между передачами, изображенными на рисунках, и их названиями.

морепродукты	рыба и	4
мясные продукты	3	
хлебобулочные изделия	2	
молочные продукты	1	

Какие продукты необходимы для приготовления ухи?
Выберите один правильный ответ.

«... Чтоб уха была по сердцу, Можно
будет в кипятке
Положить немного перцу, Лукку
маленькой кусок».

8. (1 балл) В письме своему другу В.А. Соболевскому А.С. Пушкин писал:

40%	1
50%	2
60%	3
70%	4

Выберите один правильный ответ.

Пробный период Scanitto Pro окончен

Please visit www.scanitto.com

7. (2 балла) Марина с бабушкой собрались консервировать сливу. Для этого нужно приготовить сироп. Хозяйки растворили 1,5 кг сахарного песка в 1 литре пресной воды. Определите концентрацию сахара в сиропе.

8	сдача квартиры в аренду
7	покупка продуктов питания
6	пенсия
5	земельный налог
4	подходный налог
3	стипендия
2	заработная плата
1	коммунальные платежи

Выберите все правильные ответы.

6. (4 балла) Выберите из списка те понятия, которые не относятся к доходам населения.

декоратив	канзаши	квиллинг	печворк
1	2	3	4



11. (1 балл) В какой технике выполнено изделие, изображённое на рисунке? Выберите один правильный ответ.

1	сырники	1	сырники
2	шишечки	2	шишечки
3	винегрет	3	винегрет
4	манная каша	4	манная каша
5	глины	5	глины
6	багрянная икра	6	багрянная икра

Пробный период Scanitto Pro закончен

Please visit www.scanitto.com

10. (3 балла) Выберите из списка блюда, в рецепт которых входит лук. Выберите все правильные ответы.

1	Эти пищевые продукты очень полезны для организма человека, так как они содержат прежде всего белок, все необходимые аминокислоты, фосфор, калий, фтор, йод, калий, бром, витамины D, A.	Эти пищевые продукты содержат быстрые углеводы, которые дают недолгий эффект насыщения и энергии.	Употребление этих пищевых продуктов повышает усвояемость белков и углеводов. В них содержится много витаминов, они богаты минеральными солями, органическими кислотами, сахаром, клетчаткой.
2	3	3	3

9. (1 балл) Чем полезны пищевые продукты из задания № 9? Выберите один правильный ответ.

Ответ 3

13. (2 балла) Сколько упаковок водо-дисперсионной краски нужно купить для окраски потолка детской комнаты, имеющей форму прямоугольника со сторонами 4,5 м и 5 м, если на 6 м² поверхности расходуется 1 кг краски? В продаже имеются только упаковки по 1,5 кг. Запишите только число.

4	
3	
2	
1	

12. (1 балл) На рисунках изображены способы сервировки стола к разным приемам пищи. Выберите тот, который не подходит для обеда? Выберите один правильный ответ.




16. (9 баллов) На рисунке изображены детали крой платья.

табуртин	кашмир	сукно	ковёркот
A	B	<u>B</u>	Г

Выберите один правильный ответ.

Как правило, шерстяная или полушерстяная (интерлоуп) ткань, на поверхности которой волокна не распадаются на отдельные биты, переплетены между собой, что совершенно закрывают все промежутки между нитями, придавая ткани вид войлока.

15. (1 балл) Как называется эта ткань?

Название		Головной убор	
3	кокошник		
2B	повойник		
1B	кичка		

14. (3 балла) Установите соответствие между изображениями головных уборов русского народного костюма и их названиями.

18. (1 балл) Выберите из списка профессии ту, которая исчезла в настоящее время.
 Выберите соответствующую цифру без пробелов (например, 123456789).

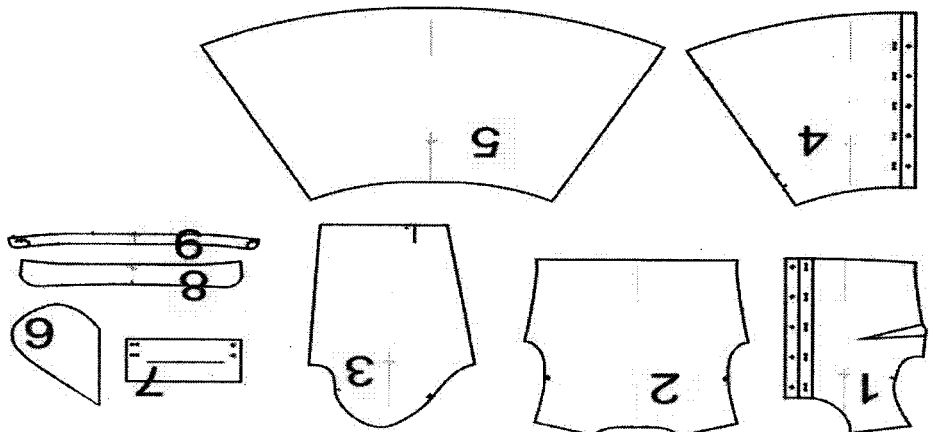
Оп: 4 43862195

Название операции	
проведение примерки	1
подготовка изделия к примерке	2
подготовка ткани к раскрою	3
подготовка выкройки	4
окончательная отделка, ВТО	5
раскрой изделия и подготовка деталей кроя	6
снятие мерок	7
раскладка выкройки на ткани	8
пошив изделия	9

17. (2 балла) Расположите технологические операции изготовления брюк при индивидуальном пошиве в правильном порядке.

Название детали	
спинка (верхняя часть платья) – 1 деталь	А
юбка спинки (нижняя часть спинки платья) – 1 деталь	Б
рукав – 2 детали	В
воротник – 2 детали	Г
подкладка кармана (мешковина) в боковом шве юбки – 4 детали	Д
стойка воротника – 2 детали	Е
юбка переда (нижняя часть переда платья) – 2 детали	Ж
перед (верхняя часть платья) – 2 детали	З
манжет – 2 детали	И

Установите соответствие между деталями кроя и их названиями.



Пробный период Scanitto Pro окончен

Please visit www.scanitto.com

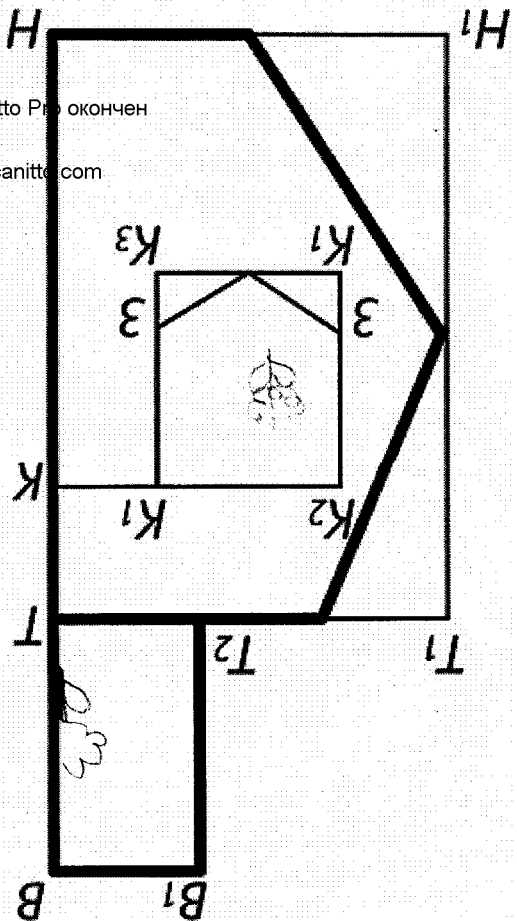
токарь	фонарщик ↗	портной	врач
4	3	2	1

Выберите один правильный ответ.

Богородицкий корпус

Творческое задание. (7 класс)

Вам предложены результаты моделирования фартика.



1. Выполните чертёж деталей фартика.

2. Подпишите на деталях края линии середины деталей; укажите

направление долевой нити; запишите названия деталей.

3. Укажите силуэт (конструкцию) фартика и его особенности.

4. По деталям края выполните эскиз фартика в цвете.

5. Перечислите материалы, из которых можно выполнить такую модель.

6. Перечислите инструменты и оборудование, необходимые для изготовления данного

№ 2

1) Перечислите материалы, из которых можно выполнить такую модель.

2) нарисуйте эскиз фартика в цвете.

3) перечислите инструменты и оборудование, необходимые для изготовления данного

4) нарисуйте эскиз фартика в цвете.

5) нарисуйте эскиз фартика в цвете.