


ШКОЛЬНЫЙ ЭТАП
ВСЕРОССИЙСКОЙ ОЛИМПИАДЫ ШКОЛЬНИКОВ ПО ТЕХНОЛОГИИ.
 Направление «Культура дома, дизайн и технологии» 2021 г. 7–8 классы

1. (1 балл) Выберите из списка объект, имеющий наноразмер.
Выберите один правильный ответ.

1	2	3	4
капля воды	толщина оболочки мыльного пузыря	клетка крови человека	маковое зерно

2. (1 балл) Из предложенных чертежей выберите вид сверху детали, изображённой на рисунке.



Пробный период Scanitto Pro окончен

Please visit www.scanitto.com





Выберите один правильный ответ.

1	2	3	4

3. (1 балл) На каком этапе работы над творческим проектом производится основная работа по изготовлению изделия? Выберите один правильный ответ.

1	технологический
2	конструкторский
3	заключительный
4	поисковый




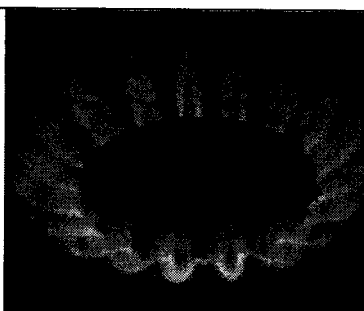
4. (4 балла) Установите соответствие между передачами, изображёнными на рисунках, и их названиями.

Изображения		Названия	
1		А	зубчатая реечная передача
2		Б	зубчато-ременная передача
3		В	перекрестная ременная передача
4		Г	прямая ременная передача

А-2, Б-4, В-1, Г-3

5. (2 балла) Из предложенных изображений выберите возобновляемые источники энергии.

Выберите все правильные ответы.

1	2	3	4
			

6. (4 балла) Выберите из списка те понятия, которые не относятся к доходам населения.

Выберите все правильные ответы.

1	коммунальные платежи
2	заработная плата
3	стипендия
4	подоходный налог
5	земельный налог
6	пенсия
7	покупка продуктов питания
8	сдача квартиры в аренду

7. (2 балла) Марина с бабушкой собрались консервировать сливу. Для этого нужно приготовить сироп. Хозяйки растворили 1,5 кг сахарного песка в 1 литре пресной воды. Определите концентрацию сахара в сиропе.

Пробный период Scanitto Pro окончен

Выберите один правильный ответ. Please visit www.scanitto.com

1	2	3	4
40 %	50 %	60 %	70 %

8. (1 балл) В письме своему другу В.А. Соболевскому А.С. Пушкин писал:

«... Чтоб уха была по сердцу, Можно
будет в кипятке

Положить немного перцу, Луку
маленькой кусок».

Какие продукты необходимы для приготовления ухи?

Выберите один правильный ответ.

1	2	3	4
молочные продукты	хлебобулочные изделия	мясные продукты	рыба и морепродукты

9. (1 балл) Чем полезны пищевые продукты из задания № 9? Выберите один правильный ответ.

1	2	3
Эти пищевые продукты очень полезны для организма человека, так как они содержат прежде всего белок, все необходимые аминокислоты, фосфор, калий, фтор, йод, калий, бром витамины D, A.	Эти пищевые продукты содержат быстрые углеводы, которые дают недолгий эффект насыщения и энергию.	Употребление этих пищевых продуктов повышает усвояемость белков и углеводов. В них содержится много витаминов, они богаты минеральными солями, органическими кислотами, сахаром, клетчаткой.

10. (3 балла) Выберите из списка блюда, в рецепт которых входит лук. Выберите все правильные ответы.

1	сырники
2	щи
3	винегрет
4	манная каша
5	блины
6	баклажанная икра

Пробный период Scanitto Pro окончен


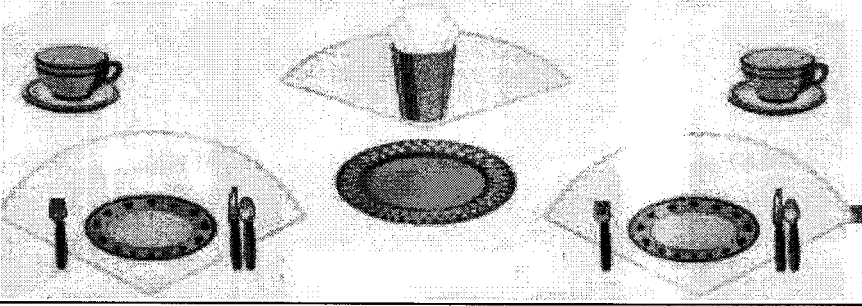

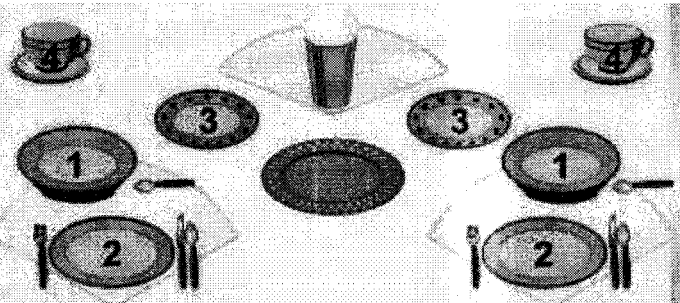
Please visit www.scanitto.com

11. (1 балл) В какой технике выполнено изделие, изображённое на рисунке? Выберите один правильный ответ.






1	2	3	4
декупаж	канзаши	квиллинг	печворк

12. (1 балл) На рисунках изображены способы сервировки стола к разным приёмам пищи. Выберите тот, который не подходит для обеда? Выберите один правильный ответ.

1	
2	
3	
4	

13. (2 балла) Сколько упаковок водно-дисперсионной краски нужно купить для окраски потолка детской комнаты, имеющей форму прямоугольника со сторонами 4,5 м и 5 м, если на 6 м^2 поверхности расходуется 1 кг краски? В продаже имеются только упаковки по 1,5 кг. Запишите только число. }

14. (3 балла) Установите соответствие между изображениями головных уборов русского народного костюма и их названиями.

Название		Головной убор	
1	кичка	А	
2	повойник	Б	
3	кокошник	В	

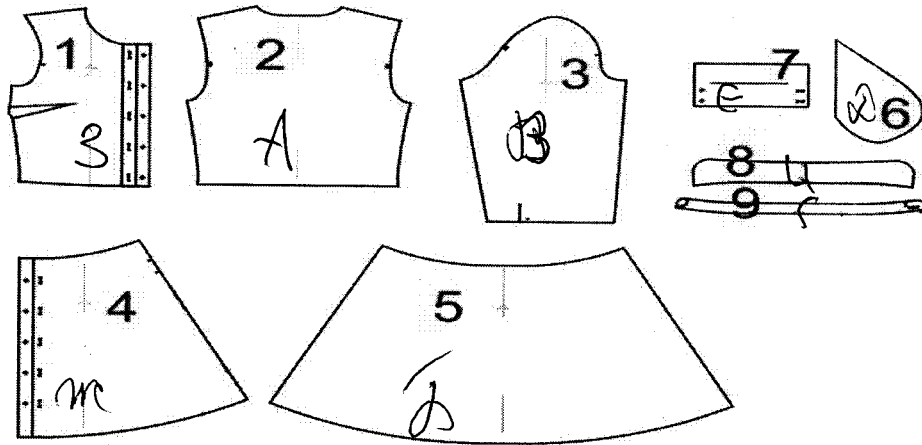
15. (1 балл) Как называется эта ткань?

Как правило, шерстяная или полушерстяная (иногда хлопчатобумажная) ткань, на поверхности которой волокна шерсти настолько сбиты, переплетены между собой, что совершенно закрывают все промежутки между нитями, придавая ткани вид войлока.

Выберите один правильный ответ.

А	Б	В	Г
габардин	кашемир	сукно	коверкот

16. (9 баллов) На рисунке изображены детали кроя платья.



Установите соответствие между деталями кроя и их названиями.

	Название детали
А	спинка (верхняя часть платья) – 1 деталь
Б	юбка спинки (нижняя часть спинки платья) – 1 деталь
В	рукав – 2 детали
Г	воротник – 2 детали
Д	подкладка кармана (мешковина) в боковом шве юбки – 4 детали
Е	стойка воротника – 2 детали
Ж	юбка переда (нижняя часть переда платья) – 2 детали
З	перед (верхняя часть платья) – 2 детали
И	манжет – 2 детали

Please visit www.scanitto.com

17. (2 балла) Расположите технологические операции изготовления брюк при индивидуальном пошиве в правильном порядке.

	Название операции	
1	проведение примерки	7
2	подготовка изделия к примерке	8
3	подготовка ткани к раскрою	2
4	подготовка выкройки	3
5	окончательная отделка, ВТО	9
6	раскрой изделия и подготовка деталей кроя	4
7	снятие мерок	1
8	раскладка выкройки на ткани	5
9	пошив изделия	6

Запишите соответствующие цифры без пробелов (например, 123456789).

18. (1 балл) Выберите из списка профессий ту, которая исчезла в настоящее время.

Выберите один правильный ответ.

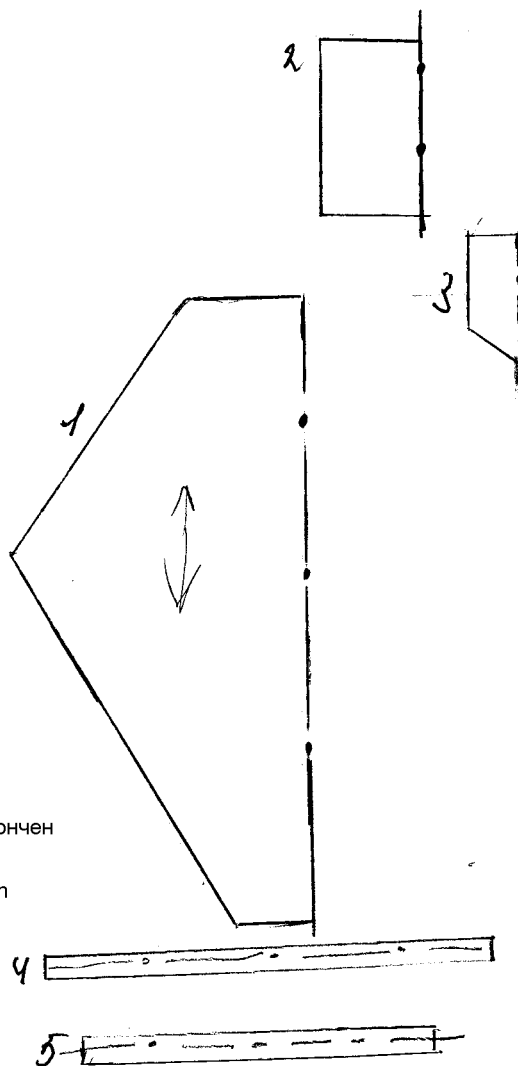
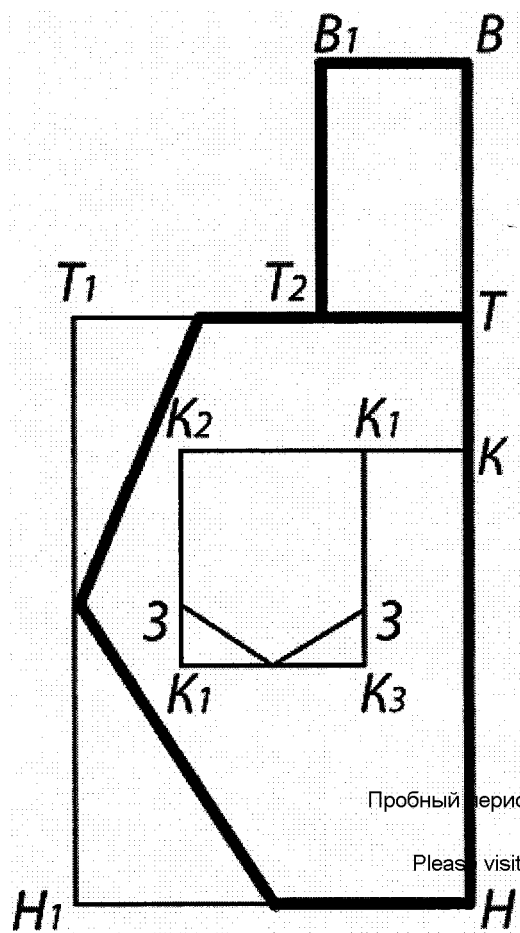
1	2	3	4
врач	портной	фонарщик	токарь
		✓	

Пробный период Scanitto Pro окончен

Please visit www.scanitto.com

Творческое задание. (7 класс)

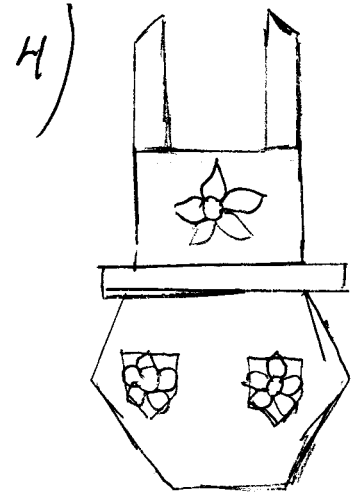
Вам предложен результат моделирования фартука.



1. Выполните чертёж деталей фартука.
2. Подпишите на деталях края линии середины деталей; укажите направление долевой нити; запишите названия деталей.
3. Укажите силуэт (конструкцию) фартука и его особенности.
4. По деталям края выполните эскиз фартука в цвете.
5. Перечислите материалы, из которых можно выполнить такую модель.
6. Перечислите инструменты и оборудование, необходимые для изготовления данного изделия.

- 2) нижняя часть, 1 дет со складом.
- 2) карман, 1 дет со складом
- 3) карман, 1 дет
- 4) пояс, 1 дет
- 5) бретель 2 детали

УЗ
 Ответ: фартук отрезают по линии
 талии, с 2 карманами и
 карманом прямоугольной
 формы, шнуром для
 завязывания.



5. Ответ: сатиш.

6. Ответ: булавки, лапка, ножницы, швейное, медь кармидеши.
оборудование для ВТО.

Пробный период Scanitto Pro окончен

Please visit www.scanitto.com