
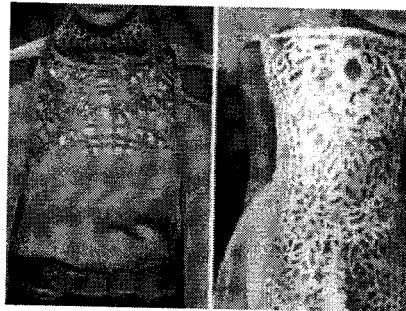



ШКОЛЬНЫЙ ЭТАП
ВСЕРОССИЙСКОЙ ОЛИМПИАДЫ ШКОЛЬНИКОВ ПО ТЕХНОЛОГИИ.
Направление «Культура дома, дизайн и технологии» 2021 г. 5 класс

1. (1 балл) Как называется технология, которая позволяет изготавливать изделия, изображённые на рисунках?



Выберите один правильный ответ.

А	Б	В	Г
лазерная резка	3D-печать	нанотехнология	биотехнология

2. (1 балл) Отгадайте загадку, получите название пищевого продукта. «Тем вкусней он будет, братцы, Чем в нём больше круглых дыр.

Любит в масле покататься Этот

вкусный жёлтый ...»

сыр

3. (1 балл) К какой группе пищевых продуктов относится отгадка загадки из вопроса № 2?

Выберите один правильный ответ.






А	Б	В	Г
овощи	молочные продукты	мясные продукты	хлебо-булочные изделия

4. (2 балла) В рецепт каких блюд входит пищевой продукт из вопроса № 2?

Выберите все правильные ответы.

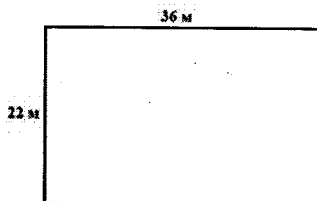
А	Б	В	Г
пицца	сырник	жюльен	гуляш

5. (3 балла) Установите соответствие между старинным и современным оборудованием, выполняющим одну и ту же функцию.

Старина		
В 1	А 2	Б 3
		
Современность		
А 2	Б 3	В 1
		

Пробный период Scanitto Pro окончен

6. (2 балла) Дачный участок имеет форму прямоугольника со сторонами 22 метра и 36 метров. Хозяин планирует обнести его забором из сетки-рабицы. Сколько рулонов сетки-рабицы нужно купить, если длина одного рулона равна 10 метров?



Выберите один правильный ответ.

А	Б	В	Г
10 рулонов	12 рулонов	14 рулонов	11 рулонов

7. (1 балл) Расположите средства связи в порядке их появления.

Запишите соответствующие цифры без пробелов (например, 123).

Ответ: 1-посла, 2-телеграф, 3-сотовый телефон

1	2	2 1	3 3
телеграф		почта	сотовый телефон

8. (2 балла) Марина собрала клубнику на даче и хочет её заморозить в морозильной камере, где достаточно места. Как ей следует поступить, чтобы сделать это самым быстрым способом?

Выберите один правильный ответ.

1	2	3	4
Положить в большой контейнер для хранения в морозильной камере в несколько слоёв	Выложить в один слой, заморозить, затем пересыпать в порционные контейнеры для хранения	Положить в небольшие полиэтиленовые пакеты	Положить в несколько маленьких контейнеров для хранения в морозильной камере в несколько слоёв

9. (2 балла) Из предложенных тканей выберите те, которые изготовлены из волокон животного происхождения.

Пробный период Scanitto Pro окончен

Please visit www.scanitto.com

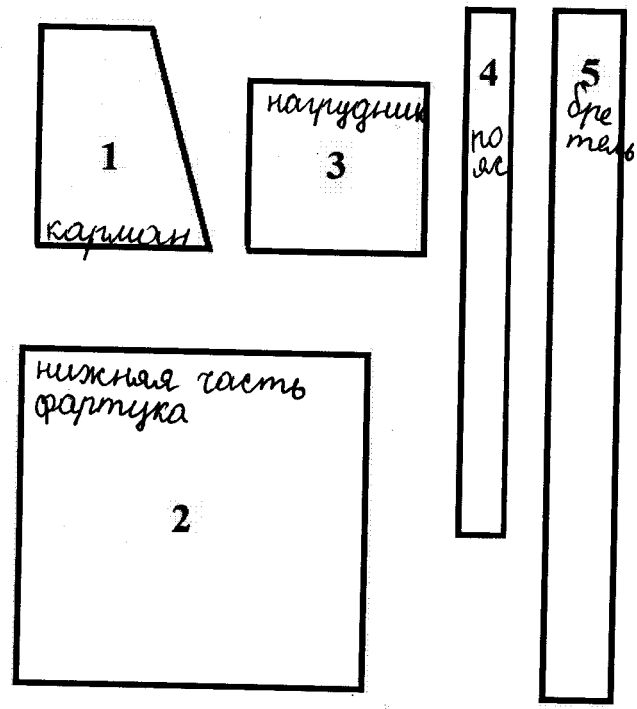
Выберите все правильные ответы.

1	2	3	4
батист	кашемир	крепдешин	полиэстер

10. (4 балла) Установите соответствие между видами рукоделия и их названиями.

Рукоделие		Название	
В 1		А	вязание крючком
А 2		Б	декупаж
Г 3	 <small>Пробный период Scanitto Pro окончен Please visit www.scanitto.com</small>	В	вышивка крестом
Б 4		Г	КВИЛЛИНГ

11. (5 баллов) На рисунке изображены детали кроя фартука.



Установите соответствие между деталями кроя и их названиями.

	Название детали
А	карман
Б	пояс
В	бретель
Г	нагрудник
Д	нижняя часть фартука

Пробный период Scanitto Pro окончен

Please visit www.scanitto.com

12-13. (3 балла) Каким швом обрабатывают верхний срез кармана фартука из ситца? Выберите название, схему и графическое изображение этого шва.

Название шва		Схема		Графическое изображение	
1	стачной шов взаутюжку	А		И	
2	шов вподгибку с закрытым срезом	Б		II	
3	накладной шов вподгибку с закрытым срезом	В	Пробный период Scanitto Pro окончен Please visit www.scanitto.com 	III	
4	шов вподгибку с открытым срезом	Г		IV	

Запишите в поле ответов соответствующие арабскую цифру, букву и римскую цифру без пробелов (например, 1AI).

Ответ: (A IV 1), (B II 4), (Г III 2), (B I 3).

Шотаева Карашна 5 "Б".

ПРАКТИЧЕСКИЙ ТУР ШКОЛЬНОГО ЭТАПА
ВСЕРОССИЙСКОЙ ОЛИМПИАДЫ ШКОЛЬНИКОВ ПО ТЕХНОЛОГИИ.
2021 г. 5-6 классы

1. Выполнить образец ручного шва (по выбору учащихся) на ткани размером 5x10 см:

1. шов стебельчатый

② шов крестообразный («козлик»)

3. шов тамбурный



шов крестообразный (козлик)

Пробный период Scanitto Pro окончен

Please visit www.scanitto.com